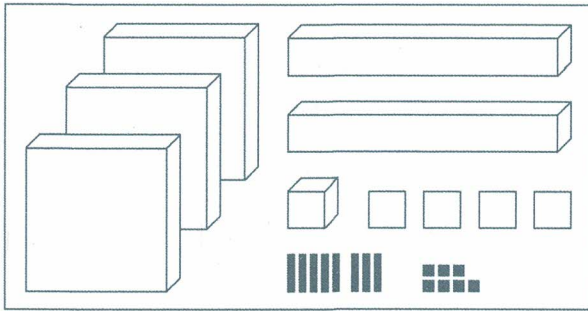


Name: _____

Klasse: _____

Datum: _____

1

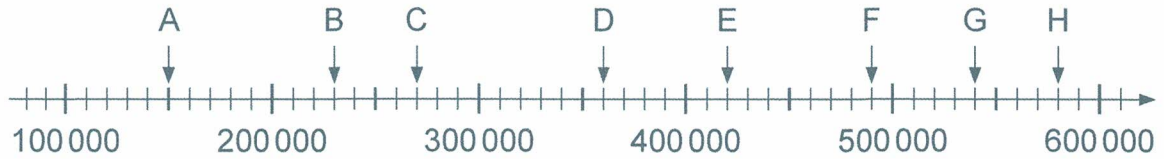


__ HT __ ZT __ T __ H __ Z __ E



2

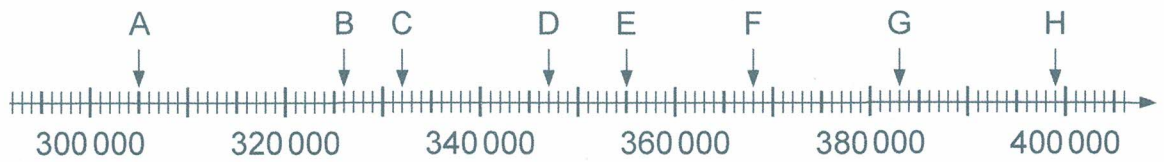
Welche Zahlen sind am Zahlenstrahl markiert? Schreibe sie auf.



A = _____ C = _____ E = _____ G = _____
 B = _____ D = _____ F = _____ H = _____

3

Welche Zahlen sind am Zahlenstrahl markiert? Schreibe sie auf.



A = _____ C = _____ E = _____ G = _____
 B = _____ D = _____ F = _____ H = _____

4

Trage die Zahlen in die Stellenwerttafel ein.

	HT	ZT	T	H	Z	E
345687						
506845						
920763						



5

Schreibe die Zahl zum Zahlwort.

neunhunderttausendeinhundertfünfzig _____

vierhundertfünfzigtausendsiebenhundertdreißig _____

neunhundertzwanzigtausendvierhundertfünf _____

Name: _____

Klasse: _____

Datum: _____

1 Ergänze den Vorgänger (V), die Zahl (Z) und den Nachfolger (N).

a)	V	Z	N
		356 999	
		941 300	
		790 000	

b)	V	Z	N
			624 852
			501 001
			1 000 000

2 Vervollständige die Zahlenfolgen.

- a) 257 000, 258 000, _____, _____, _____, 262 000
- b) _____, 874 700, 874 800, _____, _____, 875 100
- c) 694 000, 696 000, _____, _____, _____, 704 000
- d) 475 000, 485 000, _____, _____, _____, 525 000

3 Ordne. Beginne mit der größten Zahl.

348 936 723 854 584 912 872 395 602 433

4 Zerlege die Zahlen.

- 350 813 = 300 000 + 50 000 + _____
- 607 309 _____
- 956 028 _____
- 415 706 _____



5 Ergänze.

- | | |
|-----------------------------|-----------------------------|
| a) 70 000 + _____ = 100 000 | b) 65 000 + _____ = 100 000 |
| 10 000 + _____ = 100 000 | 25 000 + _____ = 100 000 |
| 600 000 + _____ = 1 000 000 | 750 000 + _____ = 1 000 000 |
| 200 000 + _____ = 1 000 000 | 350 000 + _____ = 1 000 000 |